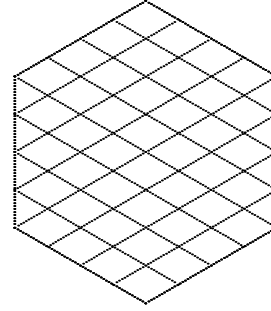
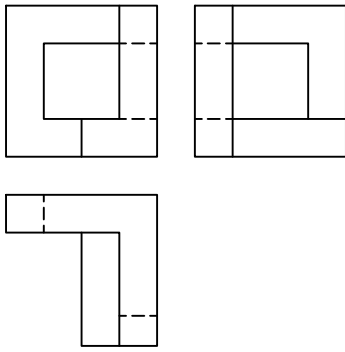
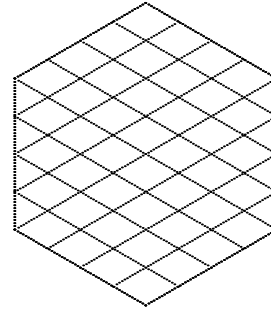
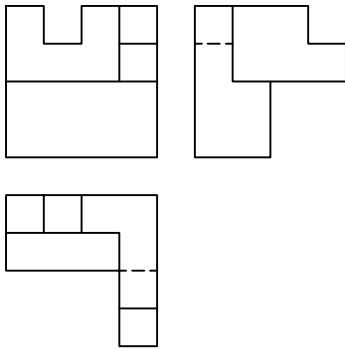


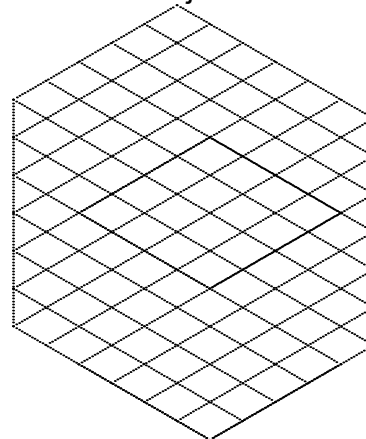
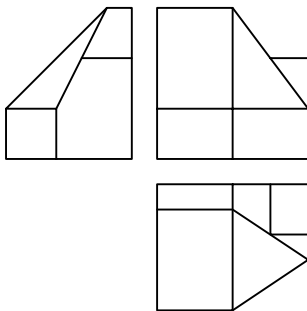
Dadas las vistas fundamentales de un cuerpo, realizar el dibujo isométrico en escala 1:1, en la posición indicada por el cubo.



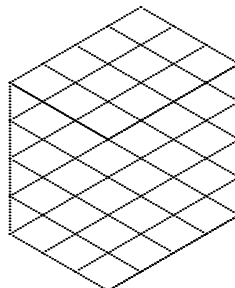
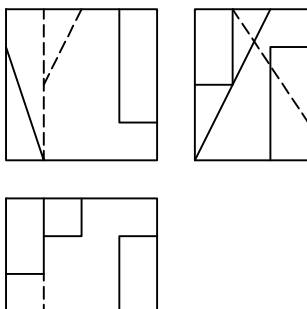
Dadas las vistas fundamentales de un cuerpo, realizar el dibujo isométrico en escala 1:1, en la posición indicada por el cubo.



Dadas las vistas fundamentales de un cuerpo, realizar el dibujo isométrico en escala 1:1.5, en la posición indicada por el cubo.



Dadas las vistas fundamentales de un cuerpo, realizar el dibujo isométrico en escala 1:1, en la posición indicada por el cubo.



Universidad Nacional de San Juan
Facultad de Ingeniería

Dibujo y Sistemas de Representación

Fecha Revisó

Alumno

Registro Espec. Grupo TP N°

VISUALIZACIÓN I

Isométrico

Cuadernillo de Ejercitación

2/2